


Гаврина С. Е.
Кутявина Н. Л.
Топоркова И. Г.
Щербинина С. В.

Школа для дошколят

6-7
ЛЕТ

ИЗУЧАЕМ

ВРЕМЯ



Рабочая тетрадь

РАЗРАБОТАНО С УЧЕТОМ ФГОС
ДОШКОЛЬНОГО ОБРАЗОВАНИЯ



Уважаемые родители и педагоги!

Перед вами рабочая тетрадь для детей старшего дошкольного возраста, которая поможет ребёнку закрепить знания о временах и месяцах года, днях недели и частях суток, научиться определять время по часам.

Знания, полученные на занятии, используйте в повседневной жизни.

Если ребёнок затрудняется в выполнении какого-то задания, обязательно помогите ему, но не выполняйте задание за него.


Занимайтесь по тетради 20–25 минут в день, не допускайте переутомления ребёнка. Не забудьте похвалить его за старание!

Желаем успеха!





Всё, что происходит в жизни, совершается во времени и в пространстве. Время — это отражение развития природы, общества, человека.



Поставь цифру 1 там, где нарисовано прошлое, цифру 2 там, где нарисовано настоящее. Поставь цифру 3 там, где нарисовано будущее.



Как ты думаешь, кому из этих людей 1 год, 7 лет, 30 лет, 80 лет? Напиши в кружочках возраст каждого.



Ответь на вопросы.

1. Сколько тебе лет?
2. Сколько лет тебе будет через год?
3. Сколько лет тебе было в прошлом году?
4. Сколько лет твоей маме, папе, брату или сестре?
5. Сколько лет тебе будет, когда ты пойдёшь в школу?
6. Какое слово лишнее: сын, прадедушка, дочь, мама, бабушка, человек, дедушка, внук, папа?

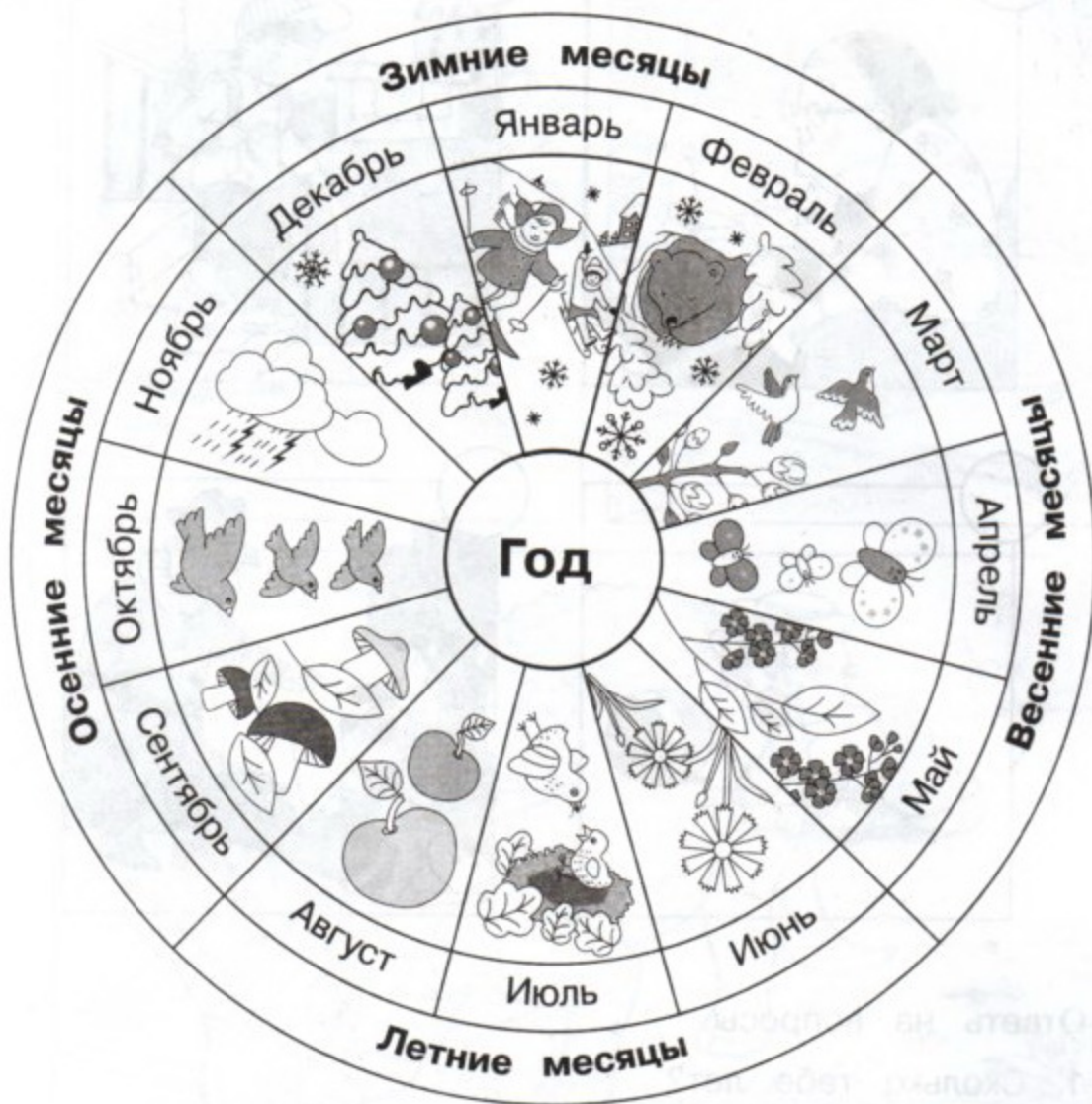
ГОД



В году 12 месяцев или 365 дней. За это время планета Земля совершает полный оборот вокруг Солнца.



Найди на картинке месяц, в котором ты родился.



Подбери противоположные слова. Лето — ..., холодно — ..., мокрый — ..., расцветает — ..., улетают — ...

Какое слово лишнее: зимний, холодный, морозный, спокойный, снежный, вьюжный?

ВРЕМЕНА ГОДА



Продолжи предложения, назвав время года.

Если собирают грибы, это...

Если набухают почки, это...

Если пожелтели листья, это...

Если на улице жарко, это...



Назови все зимние, весенние, летние и осенние месяцы.

Зима

Декабрь



Январь



Февраль



Весна

Март



Апрель



Май



Июнь



Лето

Июль



Август



Осень

Сентябрь



Октябрь



Ноябрь




Обведи красным цветом предметы, которые нужны осенью, зелёным — летом, жёлтым — весной, синим — зимой.





Впиши в кроссворд названия месяцев года. Назови их в правильном порядке.



Допиши пропущенные месяцы.

ДЕКАБРЬ		ФЕВРАЛЬ
---------	--	---------

	АПРЕЛЬ	МАЙ
--	--------	-----


ИЮНЬ	ИЮЛЬ	
------	------	--

СЕНТЯБРЬ		НОЯБРЬ
----------	--	--------

ВЧЕРА, СЕГОДНЯ, ЗАВТРА



Расскажи, что делали строители вчера, что делают сегодня, что будут делать завтра и послезавтра. Поставь в квадратике соответствующие цифры: 1, 2, 3, 4.



Дорисуй и подпиши картинку.



Вчера






Сегодня



Послезавтра



Найди лишнее изображение в каждом ряду. К какому времени года относятся остальные изображения?





Посмотри на картинки. Что было вчера? Что происходит сегодня? Что будет завтра? Пронумеруй изображения в соответствии с твоим решением.



ДНИ НЕДЕЛИ



Рассмотри картинки и расскажи, чем занимаются дети в каждый день недели. Назови дни недели в правильном порядке. Пронумеруй изображения в соответствии с твоим решением.



Воскресенье



Четверг



Суббота



Понедельник



Пятница



Вторник



Среда




Ответь на вопросы.

1. Какой день недели третий?
2. Если сегодня понедельник, то вчера было...
3. Какой день недели будет завтра? А послезавтра?



Впиши в кроссворд названия дней недели. Обрати внимание на подсказки — соответствующие цифры.



Какого дня недели не хватает в каждом ряду? Допиши.

ПОНЕДЕЛЬНИК		СРЕДА
ЧЕТВЕРГ		СУББОТА
СУББОТА	ВОСКРЕСЕНЬЕ	
ПЯТНИЦА	СУББОТА	
	СРЕДА	ЧЕТВЕРГ

СУТКИ



Сутки — это 24 часа. Сутки принято делить на четыре части: утро, день, вечер, ночь. Семь суток составляют неделю. Соедини слова с подходящей картинкой.

Утро



Вечер





День



Ночь



Впиши подходящие к картинкам части суток.





Какими предметами ты пользуешься утром, днём, вечером, ночью? Раскрась кружочки около предметов соответственно красным, жёлтым, синим, зелёным цветом.





Найди в каждом ряду лишнюю картинку. Объясни, почему она не подходит.



Январь



Май



Осень



Август



Вторник



День



Четверг



Суббота



Год



Зима



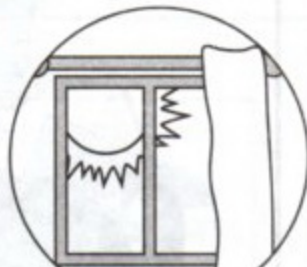
Весна



Лето



Утро



День



Вечер



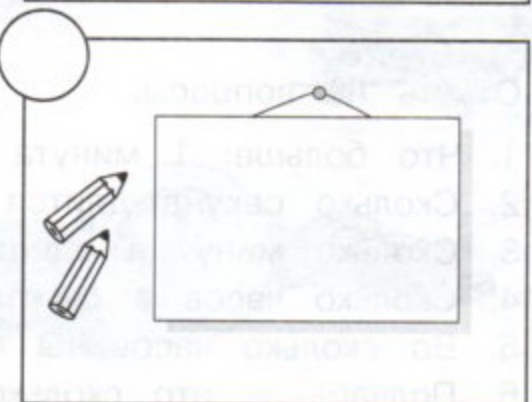



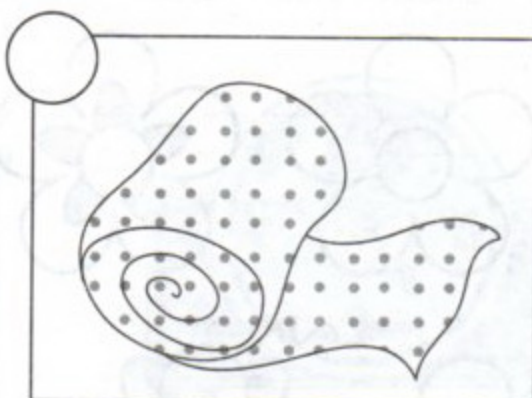

Час

☀ Посмотри на картинки и скажи, что можно сделать за 5 минут, а что за 1 час? Раскрась рамочки у того, что можно сделать за 5 минут, красным цветом, а у того, что можно сделать за 1 час, синим цветом.






Что было раньше, а что позже? Поставь цифры 1 и 2 в кружочки.





Сколько цветочков ты сможешь раскрасить за 1 минуту?



Ответь на вопросы.

1. Что больше: 1 минута или 60 секунд?
2. Сколько секунд длится 1 минута?
3. Сколько минут в одном часе?
4. Сколько часов в сутках?
5. Во сколько часов ты просыпаешься утром?
6. Полчаса — это сколько минут?

ЧАСЫ



Определять время нам помогают часы. Часы бывают разными.





На часах бывает три стрелки. Самая короткая — часовая. Она показывает часы. Обведи её красным цветом. Длинная стрелка — минутная. Эта стрелка показывает минуты. Обведи её синим цветом. Ещё может быть тонкая длинная стрелка — секундная. Эта стрелка движется довольно быстро, она показывает секунды. Обведи её зелёным цветом.


Если минутная стрелка показывает на 12, а часовая на другое число, то часы показывают время, соответствующее этому числу. Если обе стрелки показывают на число 12, значит, на часах 12 часов.

Расстояние, которое длинная стрелка проходит от одного числа до другого, равно 5 минутам.

Минутная стрелка проходит одно деление за 1 минуту. Часовая стрелка — за 1 час.

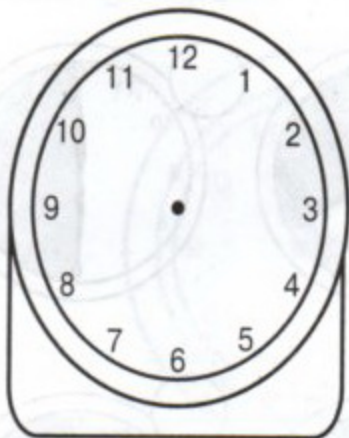
В 1 часе — 60 минут.

В 1 минуте — 60 секунд.

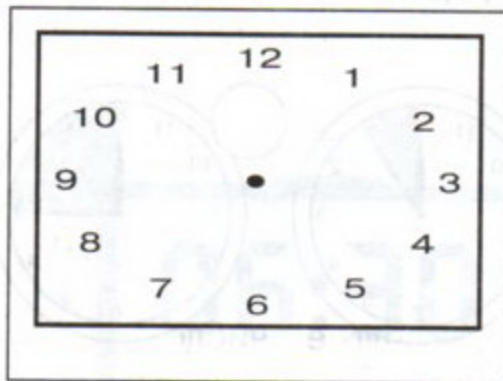




Дорисуй на часах стрелки в соответствии с указанным временем.



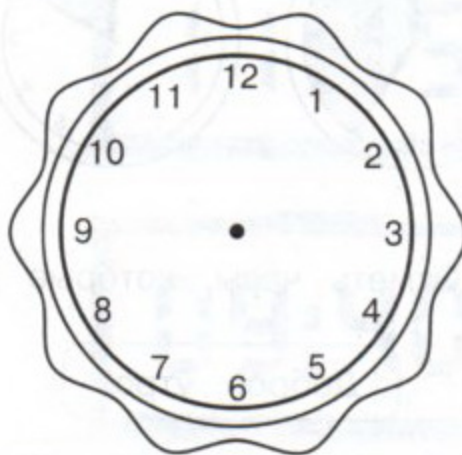
3 часа 15 минут



8 часов 10 минут



7 часов



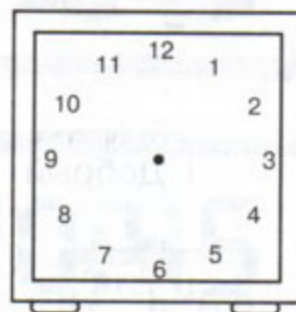
6 часов 30 минут



2 часа





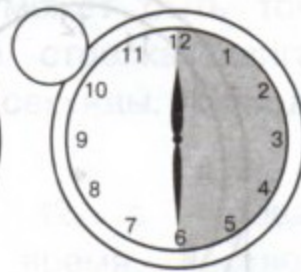
5 часов



1 час 20 минут



Сколько минут прошла длинная стрелка на каждом циферблате? Напиши соответствующее количество минут.



Отметь часы, которые показывают верное время.

Доброе утро!

Добрый день!



Добрый вечер!

Спокойной ночи!





Какое время показывают электронные и механические часы? Соедини линиями часы, которые показывают одинаковое время.



РЕЖИМ ДНЯ



Ответь на вопросы и нарисуй стрелки на часах.



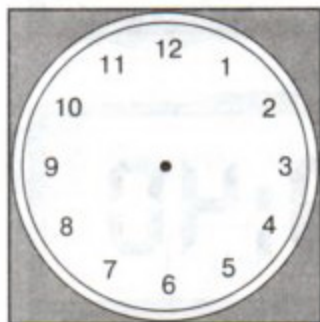
Во сколько ты встаёшь по утрам?



Когда ты завтракаешь?



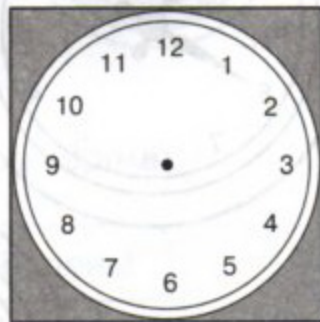
В какое время ты идёшь в детский сад?



Когда начинаются занятия в детском саду?



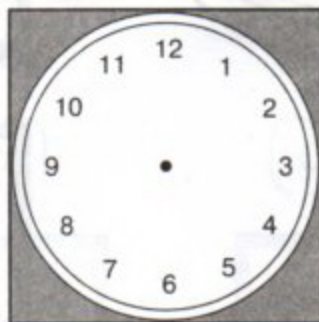
Во сколько ты обедаешь?



Когда ты играешь?



Когда ты ужинаешь?



Когда ты гуляешь?



Во сколько ты ложишься спать?